

نام و نام خانوادگی:

به نام خدا

ارزشیابی ریاضی

پایه: سوم

با دقت به سوالات زیر پاسخ بده.

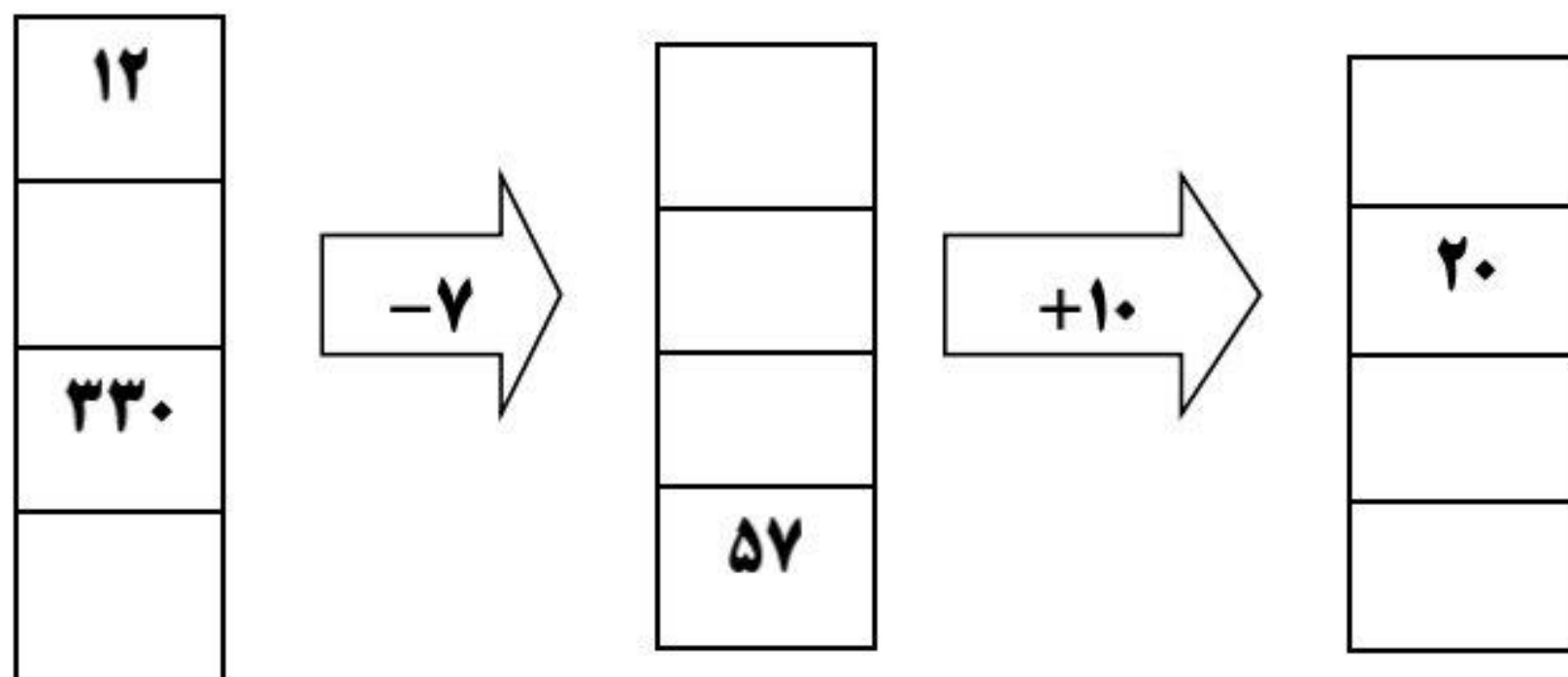
۱- الگوهای زیر را ادامه دهید.

..... ، ۴۵۰ ، ۴۰۰ ، ، ،

..... ، ۱۲ ، ۶ ،



۲- جاهای خالی را کامل کنید.



۳- مغازه داری نوعی کیک را ۳۰۰ تومان می خرد و ۴۰۰ تومان می فروشد.

تعداد کیک	۱	۲	۳	۴	۵	۶
سود						

اگر مغازه دار ۵ کیک بفروشد چند تومان سود می کند؟

چند کیک بفروشد که بتواند با سود آن یک کیک بخرد؟

۴- با کنار هم قرار دادن عددهای مناسب ، حاصل جمع های زیر را به صورت ذهنی حساب

کنید.

$$۵+۲+۸+۵=$$


$$۷+۹+۱+۳+۵=$$

$$۵+۷+۵+۳+۹+۱=$$

۵- قطاری ساعت ۷ قبل از ظهر از تهران به یزد حرکت کرد و بعد از ۹ ساعت به مقصد

رسید این قطار چه ساعتی به یزد رسیده است؟ (به دو صورت بیان کن).

۶- مربع های زیر را به دو روش دسته بندی کنید و تعداد آن ها را به دست آورید.



دسته بندی نوع اول): شمارش چندتا چندتا: عبارت جمع:

دسته بندی نوع دوم): شمارش چندتا چندتا: عبارت جمع:

۷- یک آپارتمان ۵ طبقه داریم که هر طبقه ۳ واحد دارد.

طبقه پنجم	طبقه چهارم	طبقه سوم	طبقه دوم	طبقه اول	طبقه
				۳	واحد

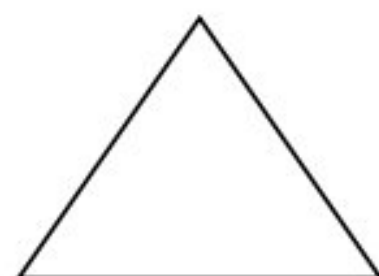
در ۲ طبقه چند واحد وجود دارد؟


۱۲ واحد در چند طبقه وجود دارد؟

۸- جدول زیر را کامل کنید.

بیست و ربع		۱۷:۱۵		۱۵	زمان
	۶:۳۰		۲:۲۵		بعد از ظهر

۹- خط تقارن شکل های زیر را رسم کنید و بنویسید هر شکل چند خط تقارن دارد.







« پیروز و سربلند باشید. »